

確認テスト

71

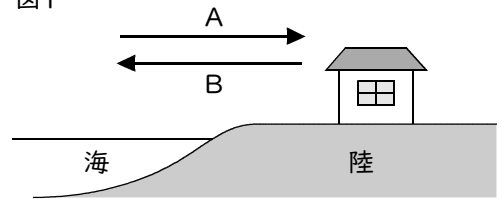
名前

得点

① 次の問いに答えなさい。

- (1) 図1は、海に面した地域を模式的に表したものである。よく晴れた日の昼に吹く風向きをA、Bから選び、記号で答えなさい。また、その風の名称を答えなさい。

図1



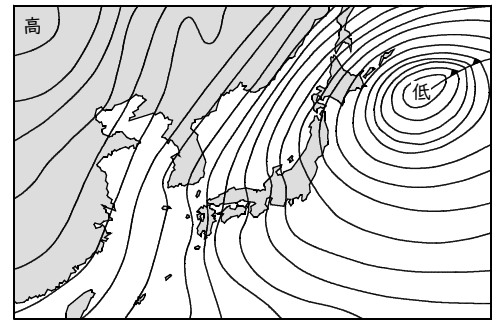
- (2) 図2は、ある日の天気図を示したものである。

- ① この天気図は、どの季節の天気を示したもののか。次のア～ウから選び、記号で答えなさい。

ア. 春 イ. 夏 ウ. 冬

- ② この天気図に見られる気団（高気圧）の名称を答えなさい。

図2



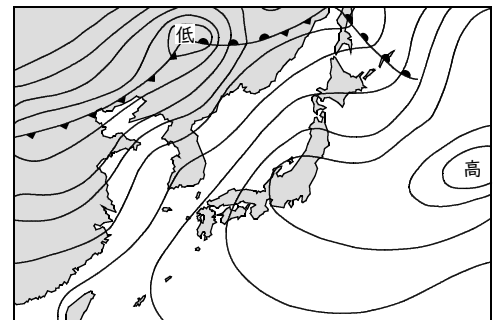
- (3) 図3は、ある日の天気図を示したものである。

- ① この天気図は、どの季節の天気を示したもののか。次のア～ウから選び、記号で答えなさい。

ア. 春 イ. 夏 ウ. 冬

- ② この天気図に見られる気団（高気圧）の名称を答えなさい。

図3



- (4) 図4は、ある日の天気図を示したものである。

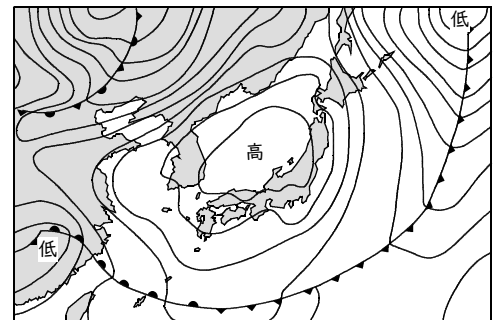
- ① この天気図は、どの季節の天気を示したもののか。次のア～ウから選び、記号で答えなさい。

ア. 春 イ. 夏 ウ. 冬

- ② 次の文は、この天気図に見られる高気圧について述べたものである。□に適切な言葉を入れなさい。また、{ }から正しいものを選び、記号で答えなさい。

天気図中の高気圧は、日本の上空に吹いている □ I の影響で、Ⅱ {ア. 東から西 イ. 西から東} へ移動していく。このような高気圧を □ III という。

図4



(1)	風向き	名称	
(2)	①	②	(3) ①
(4)	①	② I	Ⅱ III

確認テスト

71

名前

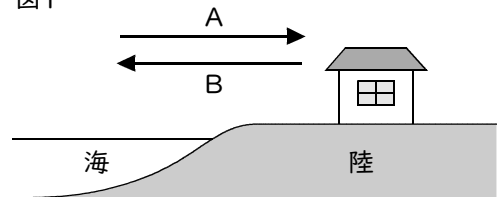
解答

得点

① 次の問いに答えなさい。

- (1) 図1は、海に面した地域を模式的に表したものである。よく晴れた日の昼に吹く風向きをA、Bから選び、記号で答えなさい。また、その風の名称を答えなさい。

図1



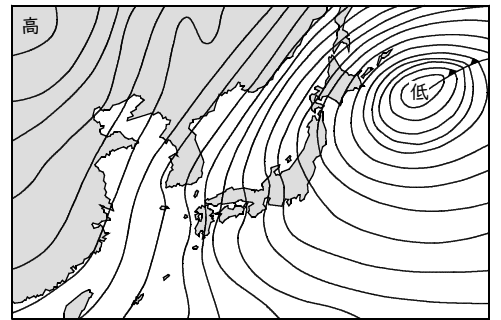
- (2) 図2は、ある日の天気図を示したものである。

- ① この天気図は、どの季節の天気を示したもののか。次のア～ウから選び、記号で答えなさい。

ア. 春 イ. 夏 ウ. 冬

- ② この天気図に見られる気団（高気圧）の名称を答えなさい。

図2



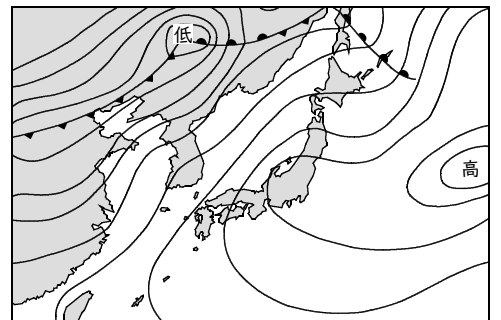
- (3) 図3は、ある日の天気図を示したものである。

- ① この天気図は、どの季節の天気を示したもののか。次のア～ウから選び、記号で答えなさい。

ア. 春 イ. 夏 ウ. 冬

- ② この天気図に見られる気団（高気圧）の名称を答えなさい。

図3



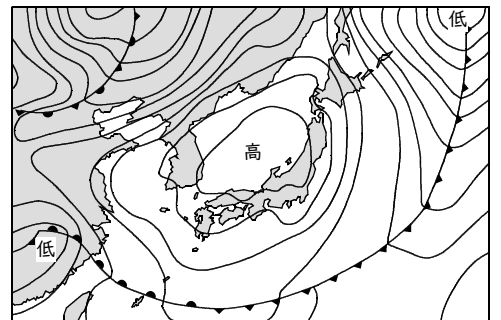
- (4) 図4は、ある日の天気図を示したものである。

- ① この天気図は、どの季節の天気を示したもののか。次のア～ウから選び、記号で答えなさい。

ア. 春 イ. 夏 ウ. 冬

- ② 次の文は、この天気図に見られる高気圧について述べたものである。□に適切な言葉を入れなさい。また、{ }から正しいものを選び、記号で答えなさい。

図4



天気図中の高気圧は、日本の上空に吹いている □ I の影響で、II {ア. 東から西 イ. 西から東} へ移動していく。このような高気圧を □ III という。

(1)	風向き A	名称 海風	
(2)	① ウ	② シベリア気団	(3) ① イ ② 小笠原気団
(4)	① ア	② I 偏西風	II イ III 移動性高気圧