

確認テストR 8

名前	得点
----	----

1 次の問いに答えなさい。

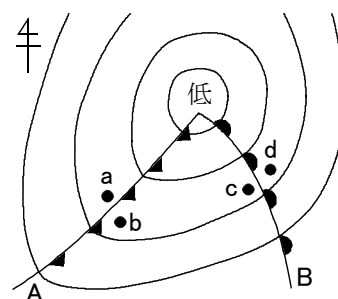

- ある地点の風向は南南東、風力は3、天気は晴れであった。このときの、風向、風力、天気を表す天気図記号をかきなさい。
- 高気圧と低気圧の中心付近では、どのような大気の流れが起きているか。次のア～エから選び、それぞれ記号で答えなさい。



(1)		⑥
(2)	高気圧	低気圧
	⑥	⑥

2 右の低気圧について、次の問いに答えなさい。

- A, Bの前線の名称をそれぞれ答えなさい。
- A, Bの前線付近の断面のようすを、次のア～エからそれぞれ選び、記号で答えなさい。



- A, Bの前線付近に見られ、雨を降らせる雲の名前をそれぞれ答えなさい。
- 次の①, ②は、a～dのどこのようすを述べたものか。それぞれ記号で答えなさい。
 - しばらくするとわか雨が降り、気温が急に下がる。
 - 現在は、しとしと雨が降り続けているが、しばらくすると雨がやんで気温が上昇する。

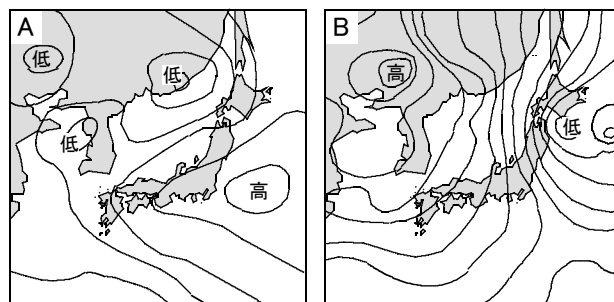
(1)	A	B	(2)	A	B
	⑦	⑦		⑦	⑦
(3)	A	B	(4)	①	②
	⑦	⑦		⑦	⑦

3 次の問いに答えなさい。

- 次の文の{ }の中から正しいものを選び、それぞれ記号で答えなさい。

海に面した地域では、夜に陸上よりも海上の方が温度が①{ア. 高い イ. 低い}ため、風が②{ア. 陸上から海上 イ. 海上から陸上}に向かって吹く。

- 右のA, Bは、それぞれ、ある季節の典型的な天気図を示したものである。それぞれどの季節のものですか。



(1)	①	②	(2)	A	B
	⑥	⑥		⑦	⑦

確認テストR 8

名前	解答	得点
----	----	----

1 次の問いに答えなさい。

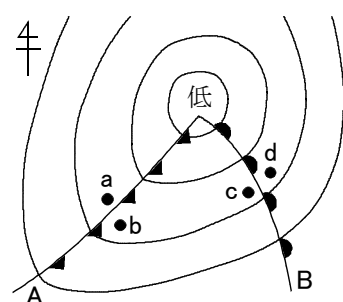

- ある地点の風向は南南東、風力は3、天気は晴れであった。このときの、風向、風力、天気を表す天気図記号をかきなさい。
- 高気圧と低気圧の中心付近では、どのような大気の流れが起きているか。次のア～エから選び、それぞれ記号で答えなさい。



(1)		⑥
(2)	高気圧 エ	低気圧 イ

2 右の低気圧について、次の問いに答えなさい。

- A, Bの前線の名称をそれぞれ答えなさい。
- A, Bの前線付近の断面のようすを、次のア～エからそれぞれ選び、記号で答えなさい。



- A, Bの前線付近に見られ、雨を降らせる雲の名前をそれぞれ答えなさい。
- 次の①, ②は、a～dのどこのようすを述べたものか。それぞれ記号で答えなさい。
 - しばらくするとわか雨が降り、気温が急に下がる。
 - 現在は、しとしと雨が降り続けているが、しばらくすると雨がやんで気温が上昇する。

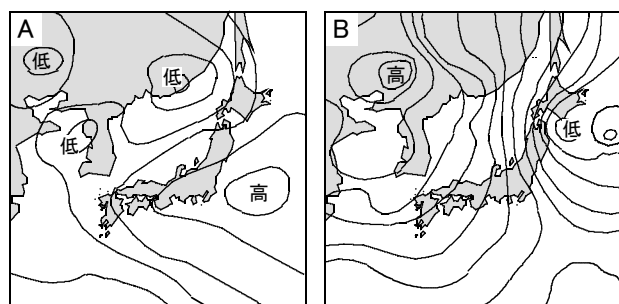
(1)	A 寒冷前線	B 温暖前線	(2)	A ウ	B ア
(3)	A 積乱雲	B 乱層雲	(4)	① b	② d

3 次の問いに答えなさい。

- 次の文の{ }の中から正しいものを選び、それぞれ記号で答えなさい。

海に面した地域では、夜に陸上よりも海上の方が温度が①{ア. 高い イ. 低い}ため、風が②{ア. 陸上から海上 イ. 海上から陸上}に向かって吹く。

- 右のA, Bは、それぞれ、ある季節の典型的な天気図を示したものである。それぞれどの季節のものですか。



(1)	① ア	② ア	(2)	A 夏	B 冬
-----	------------	------------	-----	------------	------------