

# 確認テスト

72

名前

得点

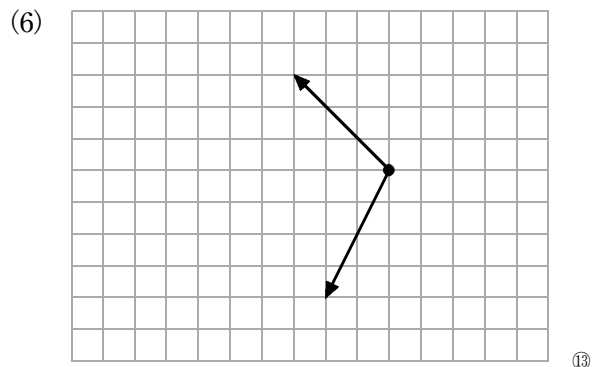
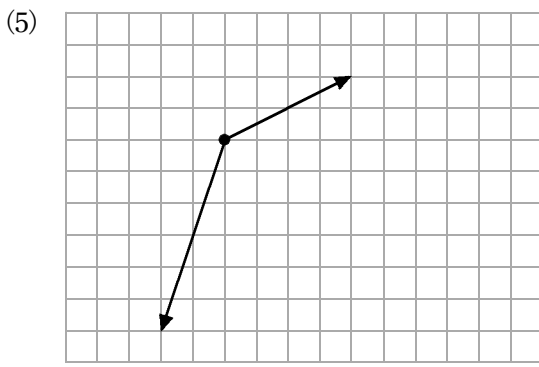
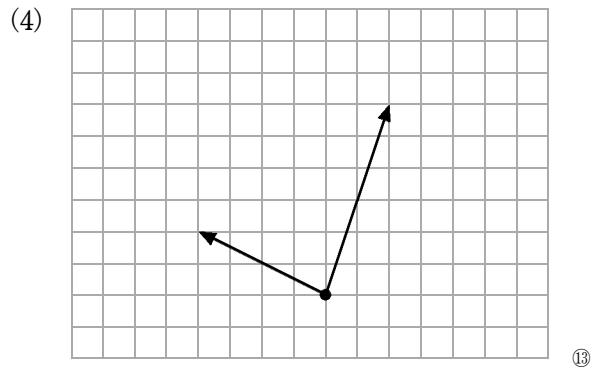
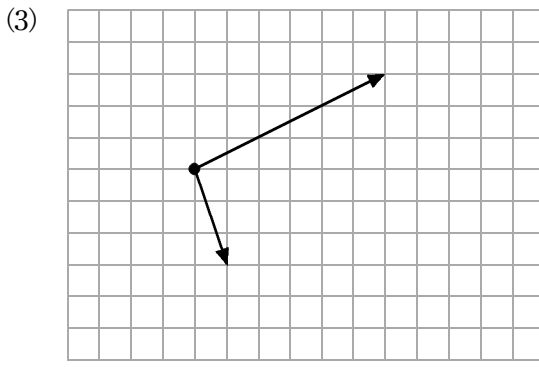
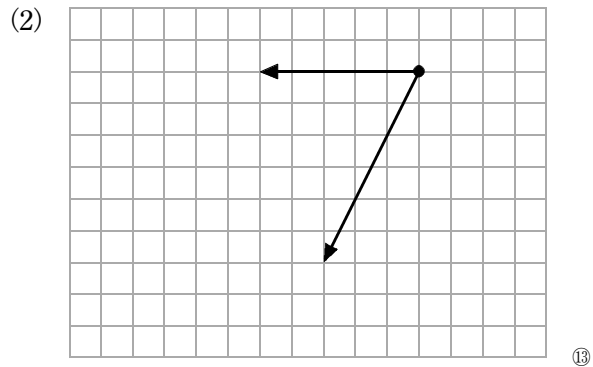
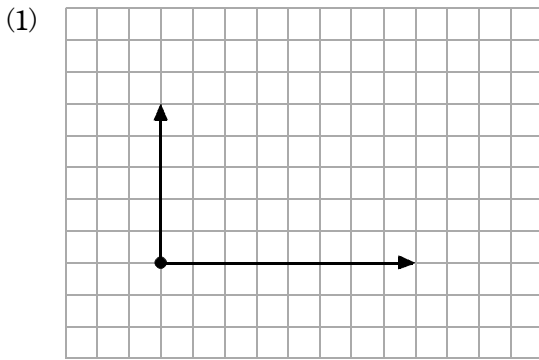
① 同じ作用点にはたらく次の(1), (2)の2力の合力の, 向きと大きさをそれぞれ答えなさい。

(1) 右向きに7.0Nの力と, 右向きに4.0Nの力。

(2) 右向きに6.0Nの力と, 左向きに9.0Nの力。

(1)	向きに	Nの力	(2)	向きに	Nの力
		⑩			⑩

② 次のそれぞれの図の2力の合力を, 作図して答えなさい。



## 確認テスト

72

名前

解答

得点

① 同じ作用点にはたらく次の(1), (2)の2力の合力の, 向きと大きさをそれぞれ答えなさい。

(1) 右向きに7.0Nの力と, 右向きに4.0Nの力。

(2) 右向きに6.0Nの力と, 左向きに9.0Nの力。

(1)	右	向きに	11.0	Nの力	⑩	(2)	左	向きに	3.0	Nの力	⑩
-----	---	-----	------	-----	---	-----	---	-----	-----	-----	---

② 次のそれぞれの図の2力の合力を, 作図して答えなさい。

