

確認テスト

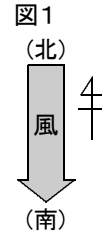
66

名前

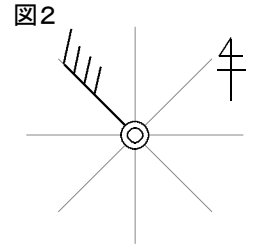
得点

① 次の問いに答えなさい。

(1) 図1のように、風が北から南へ向かって吹いているときの風向を答えなさい。



(2) 図2の天気図記号から、風向、風力、天気を答えなさい。



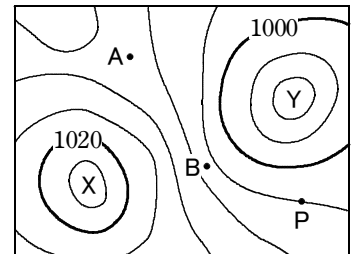
(3) 雲量が8のときの天気を答えなさい。

(1)	⑧	(2)	風向	⑧	風力	⑧	天気	⑧	(3)	⑧
-----	---	-----	----	---	----	---	----	---	-----	---

② 右図は、日本付近の気圧配置を示したものである。これについて、次の問いに答えなさい。

(1) 気圧の等しい地点をなめらかに結んだ線を、何といいますか。

(2) P地点の気圧は何hPaですか。



(3) P地点の風向を次のア～エから選び、記号で答えなさい。

ア. 北東 イ. 北西 ウ. 南東 エ. 南西

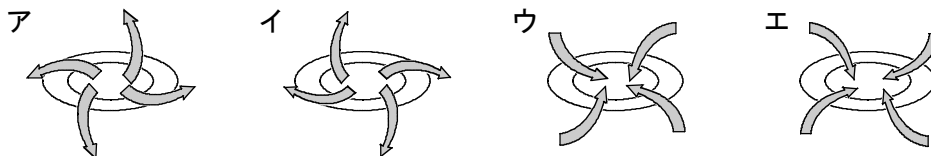
(4) A, Bのうち、風力が大きい方の記号を答えなさい。

(5) 図のXの説明として正しいものを次のア～エから選び、記号で答えなさい。

ア. 低気圧で、上昇気流がある。 イ. 低気圧で、下降気流がある。
 ウ. 高気圧で、上昇気流がある。 エ. 高気圧で、下降気流がある。

(6) X, Yのうち、晴れている方の記号を答えなさい。

(7) X, Yの中心付近の大気の流れのようすを、次のア～エからそれぞれ選び、記号で答えなさい。



(1)	⑧	(2)	hPa	⑧	(3)	⑧	(4)	⑦
(5)	⑧	(6)	⑦	(7)	X	⑦	Y	⑦

確認テスト

66

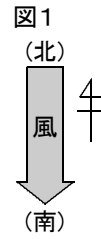
名前

解答

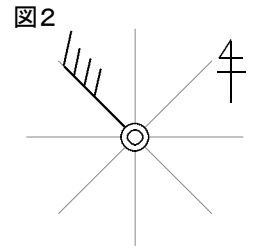
得点

① 次の問いに答えなさい。

(1) 図1のように、風が北から南へ向かって吹いているときの風向を答えなさい。



(2) 図2の天気図記号から、風向、風力、天気を答えなさい。



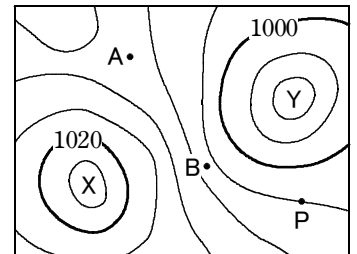
(3) 雲量が8のときの天気を答えなさい。

(1)	北	⑧	(2)	風向	北西	⑧	風力	4	⑧	天気	くもり	⑧	(3)	晴れ	⑧
-----	---	---	-----	----	----	---	----	---	---	----	-----	---	-----	----	---

② 右図は、日本付近の気圧配置を示したものである。これについて、次の問いに答えなさい。

(1) 気圧の等しい地点をなめらかに結んだ線を、何といいますか。

(2) P地点の気圧は何hPaですか。



(3) P地点の風向を次のア～エから選び、記号で答えなさい。

ア. 北東 イ. 北西 ウ. 南東 エ. 南西

(4) A, Bのうち、風力が大きい方の記号を答えなさい。

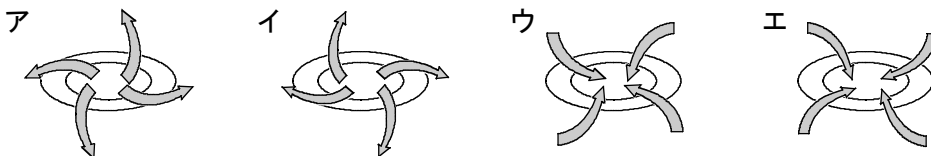
(5) 図のXの説明として正しいものを次のア～エから選び、記号で答えなさい。

ア. 低気圧で、上昇気流がある。 イ. 低気圧で、下降気流がある。

ウ. 高気圧で、上昇気流がある。 エ. 高気圧で、下降気流がある。

(6) X, Yのうち、晴れている方の記号を答えなさい。

(7) X, Yの中心付近の大気の流れのようすを、次のア～エからそれぞれ選び、記号で答えなさい。



(1)	等圧線			⑧	(2)	1004	hPa	⑧	(3)	エ	⑧	(4)	B	⑦
(5)	エ	⑧	(6)	X	⑦	(7)	X	イ	⑦	Y	ウ	⑦		