

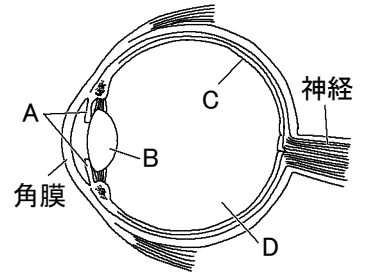
確認テスト

61

名前

得点

① 右図は、ヒトの目のつくりを示したものである。これについて、次の問いに答えなさい。



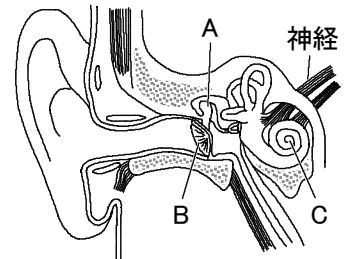
(1) A～Cの名前をそれぞれ答えなさい。

(2) 次の①, ②のはたらきをするつくりを、それぞれA～Dから選び、記号で答えなさい。

- ① 厚さを変えて、像を結ばせる。 ② 入ってくる光の量を調節する。

(1)	A		B		C			
(2)	①		②					

② 右図は、ヒトの耳のつくりを示したものである。これについて、次の問いに答えなさい。



(1) A～Cの名前をそれぞれ答えなさい。

(2) 次の①, ②のはたらきをするつくりを、それぞれA～Cから選び、記号で答えなさい。

- ① 音の刺激によって振動する。 ② 振動を拡大する。

(1)	A		B		C			
(2)	①		②					

確認テスト

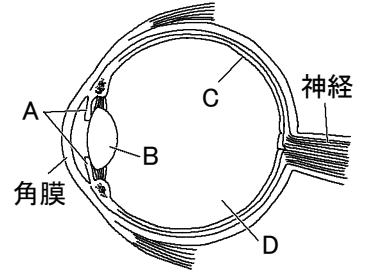
61

名前

解答

得点

① 右図は、ヒトの目のつくりを示したものである。これについて、次の問いに答えなさい。



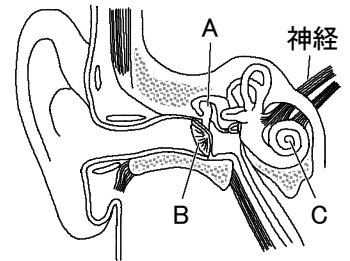
(1) A～Cの名前をそれぞれ答えなさい。

(2) 次の①, ②のはたらきをするつくりを、それぞれA～Dから選び、記号で答えなさい。

① 厚さを変えて、像を結ばせる。 ② 入ってくる光の量を調節する。

(1)	A	こ う さい	⑩	B	レ ん ズ	⑩	C	網 ま 膜	⑩
(2)	①	B	⑩	②	A	⑩			

② 右図は、ヒトの耳のつくりを示したものである。これについて、次の問いに答えなさい。



(1) A～Cの名前をそれぞれ答えなさい。

(2) 次の①, ②のはたらきをするつくりを、それぞれA～Cから選び、記号で答えなさい。

① 音の刺激によって振動する。 ② 振動を拡大する。

(1)	A	耳 こ 骨	⑩	B	鼓 ま 膜	⑩	C	う ず まき管	⑩
(2)	①	B	⑩	②	A	⑩			